



АВТОНОМНАЯ НЕКОММЕРЧЕСКАЯ ОРГАНИЗАЦИЯ
ВЫСШЕГО ОБРАЗОВАНИЯ
«ВОЛГОГРАДСКИЙ ГУМАНИТАРНЫЙ ИНСТИТУТ»

Программа

Принята Учебно-методическим советом АНО ВО «ВГГИ»
Протокол № 2 от «06» сентября 2022 г.

УТВЕРЖДАЮ
Ректор АНО ВО «ВГГИ»
С.М. Бельский
«11» октября 2022 г.



ДОКУМЕНТ ПОДПИСАН
ЭЛЕКТРОННОЙ ПОДПИСЬЮ

Сертификат: ba68661853ff4e4ed072e96f287dec042ccdeda6

Владелец: Бельский Сергей Михайлович

Действителен с 31.10.2022 по 31.01.2024

ПРОГРАММА ВСТУПИТЕЛЬНЫХ ИСПЫТАНИЙ

математика

Направление подготовки:

37.03.01 «Психология»

Квалификация (степень) выпускника – **бакалавр**

Форма обучения **очно-заочная**

Волгоград, 2022 г.

1. Форма проведения вступительного испытания

Вступительное испытание по дисциплине «Математика» проводится в форме письменного тестирования. Испытание проводится на русском языке.

2. Продолжительность вступительного испытания

Общая продолжительность испытания составляет 2 (два) часа. Общая продолжительность испытания включает выдачу материалов, объяснение правил заполнения, непосредственно ответы на задания.

Для лиц с ограниченными возможностями здоровья, продолжительность вступительного испытания увеличивается на 1,5 часа и составляет 3,5 часа.

3. Темы дисциплины для подготовки к вступительному испытанию

Тема 1. Числа и вычисления

Натуральные числа. Десятичная система счисления. Арифметические действия с натуральными числами. Свойства арифметических действий. Степень с натуральным показателем.

Делители и кратные числа. Признаки делимости. Простые числа. Разложение числа на простые множители.

Обыкновенные дроби. Сокращение дробей. Арифметические действия с обыкновенными дробями. Нахождение части числа и числа по его части.

Десятичные дроби. Сравнение десятичных дробей. Арифметические действия с десятичными дробями. Представление обыкновенных дробей десятичными. Среднее арифметическое.

Отношения. Пропорция. Основное свойство пропорции. Пропорциональные и обратно пропорциональные величины.

Проценты. Основные задачи на проценты.

Решение текстовых задач арифметическими приемами.

Положительные и отрицательные числа. Противоположные числа. Модуль числа. Сравнение целых чисел. Арифметические действия с положительными и отрицательными числами, свойства арифметических действий.

Рациональные числа. Изображение чисел точками на координатной прямой. Действительные числа. Иррациональные числа.

Приближенные значения. Абсолютная и относительная погрешности. Округление натуральных чисел и десятичных дробей.

Квадратный корень. Десятичные приближения квадратного корня. Корень третьей степени.

Вычисления с помощью калькулятора.

Тема 2. Выражения и преобразования

Буквенные выражения. Числовые подстановки в буквенные выражения. Выражения по формулам. Буквенная запись свойств арифметических действий.

Свойства степени с натуральным показателем. Многочлены. Приведение подобных слагаемых. Сложение, вычитание и умножение многочленов. Разложение многочленов на множители. Квадратный трехчлен: выделение квадрата двучлена, разложение на множители. Формулы сокращенного умножения.

Алгебраические дроби. Основное свойство алгебраической дроби. Сокращение дробей. Сложение, вычитание, умножение и деление алгебраических дробей. Степень с целым показателем и ее свойства.

Свойства арифметического квадратного корня и их применение к преобразованию выражений.

Арифметическая и геометрическая прогрессии. Формулы общего члена и суммы n первых членов арифметической и геометрической прогрессии.

Основное логарифмическое тождество. Логарифмы произведения, степени, частного. Формула перехода к другому основанию.

Синус, косинус, тангенс и котангенс произвольного угла. Основное тригонометрическое тождество. Соотношения между тригонометрическими функциями одного и того же аргумента.

Формулы приведения, сложения, двойного и половинного аргумента, суммы и разности тригонометрических функций. Преобразование произведения тригонометрических функций в сумму.

Тема 3. Уравнения и неравенства

Уравнения с одной переменной. Корни уравнения. Линейное уравнение. Квадратное уравнение. Формула корней квадратного уравнения. Решение рациональных уравнений.

Система уравнений. Решение системы двух линейных уравнений с двумя переменными. Решение простейших нелинейных систем.

Иррациональные, показательные, логарифмические, тригонометрические уравнения

Решение текстовых задач методом составления уравнений.

Числовые неравенства и их свойства. Линейные неравенства с одной переменной и их системы. Квадратные неравенства с одной переменной, дробно-рациональные неравенства. Неравенства, содержащие показательные функции, логарифмы.

Тема 4. Функции

Прямоугольная система координат на плоскости.

Функция. Область определения и область значения функции. График функции. Возрастание, убывание функции, сохранение знака на промежутке.

Функции: $y=kx$, $y=kx+b$, $y=k/x$, $y=x^2$, $y=x^3$, $y=ab^2+bx+c$, $y=\pm x$ их свойства и графики. Показательная, логарифмическая, тригонометрические функции.

Производные функций. Правила дифференцирования функций. Производные элементарных функций. Исследование функций на экстремум. Наибольшее и наименьшее значение функции на промежутке.

Тема 5. Геометрические фигуры и их свойства. Измерение геометрических величин

Представление о начальных понятиях геометрии и геометрических фигурах. Равенство фигур.

Отрезок. Длина отрезка и его свойства. Расстояние между точками.

Угол. Виды углов. Смежные и вертикальные углы и их свойства. Биссектриса угла и ее свойства. Величина угла и ее свойства. Градусная и радианная мера угла.

Параллельные прямые. Перпендикулярные прямые. Теоремы о параллельных и перпендикулярных прямых. Свойство серединного перпендикуляра к отрезку. Расстояние от точки до прямой. Расстояние между параллельными прямыми.

Треугольник и его элементы. Признаки равенства треугольников. Высота, медиана, биссектриса треугольника. Свойства равнобедренного и равностороннего треугольников. Сумма углов треугольника. Теорема Фалеса. Средняя линия треугольника и ее свойства. Неравенства треугольников. Синус, косинус, тангенс и котангенс острого угла. Прямоугольный треугольник. Теорема Пифагора. Решение прямоугольных треугольников. Метрические соотношения между элементами произвольного треугольника: теорема синусов и теорема косинусов. Подобие треугольников. Признаки подобия треугольников. Площадь треугольника.

Четырехугольники. Параллелограмм. Прямоугольник, ромб, квадрат. Трапеция. Средняя линия трапеции и ее свойства. Площади четырехугольников.

Многоугольники. Правильные многоугольники. Сумма углов выпуклого многоугольника.

Окружность и круг. Касательная к окружности и ее свойства. Центральные и вписанные углы. Окружность, описанная около треугольника. Окружность, вписанная в треугольник. Длина окружности. Длина дуги окружности. Площадь круга.

Осевая симметрия. Центральная симметрия.

Вектор. Угол между векторами. Координаты вектора. Сложение векторов. Умножение векторов на число. Скалярное произведение векторов.

Прямая и плоскость в пространстве. Двугранный угол. Параллельность и перпендикулярность прямых и плоскостей. Углы между прямыми и плоскостями.

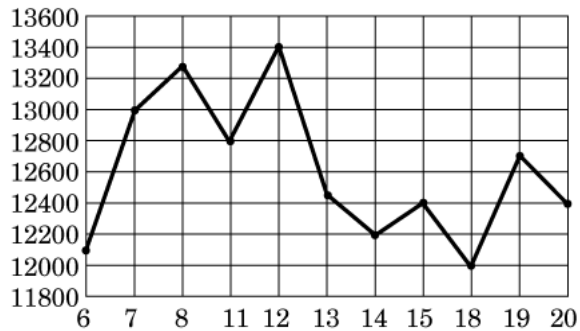
Многогранники: параллелепипед, призма, пирамида. Круглые тела: шар, цилиндр, конус. Формулы объемов, площади поверхностей.

4. Примерные варианты тестовых заданий

Тест 1.

В1. Флакон шампуня стоит 160 рублей. Какое наибольшее число флаконов можно купить на 1000 рублей во время распродажи, когда скидка составляет 25%?

В2. На рисунке жирными точками показана цена никеля на момент закрытия биржевых торгов во все рабочие дни с 6 по 20 мая 2009 года. По горизонтали указываются числа месяца, по вертикали — цена тонны никеля в долларах США. Для наглядности жирные точки на рисунке соединены линией.



Определите по рисунку наибольшую цену никеля на момент закрытия торгов в указанный период (в долларах США за тонну).

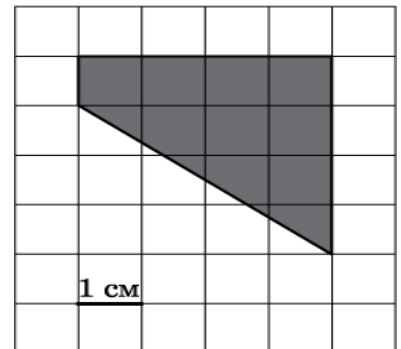
В3. Найдите корень уравнения $\log_2(6 + x) = 4$.

В4. В треугольнике ABC : $C = 90^\circ$, $AB = 40$, $AC = 4\sqrt{51}$. Найдите $\sin A$.

В5. Семья из трех человек едет из Москвы в г. Чебоксары. Можно ехать поездом, а можно — на своей машине. Билет на поезд на одного человека стоит 740 рублей. Автомобиль расходует 9 литров бензина на 100 километров пути, расстояние по шоссе равно 700 км, а цена бензина равна 19 руб. за литр. Сколько рублей будет стоить самая дешевая поездка для этой семьи?

В6. На клетчатой бумаге с клетками размером 1 см \times 1 см изображена трапеция (см. рисунок).

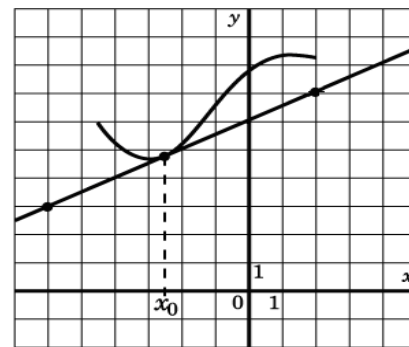
Найдите ее площадь в квадратных сантиметрах.



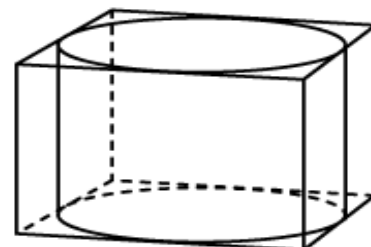
В7. Найдите значение выражения: $3^9 \cdot 2^6 \cdot 6^5$.

В8. На рисунке изображён график функции $y = f(x)$ и касательная к нему в точке с абсциссой x_0 .

Найдите значение производной функции $f(x)$ в точке x_0 .



В9. Прямоугольный параллелепипед описан около цилиндра, радиус основания которого равен 3. Объем параллелепипеда равен 18. Найдите высоту цилиндра.



В10. Для определения эффективной температуры звёзд используют закон Стефана–Больцмана, согласно которому мощность излучения нагретого тела прямо пропорциональна площади его поверхности и четвёртой степени температуры: $P = \zeta ST^4$, где $\zeta = 5,7 \cdot 10^{-8}$ — постоянная, площадь S измеряется в квадратных метрах, температура T — в градусах Кельвина, а мощность P — в ваттах. Известно, что некоторая звезда имеет площадь $S = (1/228) \cdot 10^{20} \text{ м}^2$, а излучаемая ею мощность P не менее $1,5625 \cdot 10^{25} \text{ Вт}$. Определите наименьшую возможную температуру этой звезды. Ответ дайте в градусах Кельвина.

В11. Найдите наименьшее значение функции $y = (x-7)ex^{-6}$ на отрезке $[5;7]$.

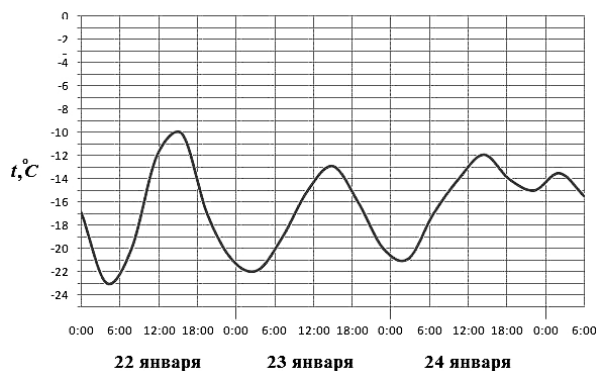
В12. Велосипедист выехал с постоянной скоростью из города А в город В, расстояние между которыми равно 72 км. На следующий день он отправился обратно со скоростью на 6 км/ч больше прежней. По дороге он сделал остановку на 6 часов. В результате он затратил на обратный путь столько же времени, сколько на путь из А в В. Найдите скорость велосипедиста на пути из А в В. Ответ дайте в км/ч.

Тест 2

В1. Теплоход рассчитан на 650 пассажиров и 20 членов команды. Каждая спасательная шлюпка может вместить 50 человек. Какое наименьшее число шлюпок должно быть на теплоходе, чтобы в случае необходимости в них можно было разместить всех пассажиров и всех членов команды?

В2. На рисунке показано изменение температуры воздуха на протяжении трех суток. По горизонтали указывается дата и время суток, по вертикали — значение температуры в градусах Цельсия.

Определите по рисунку наибольшую температуру воздуха 23 января. Ответ дайте в градусах Цельсия.



В3. Найдите корень уравнения $\sqrt{3x-58} = \frac{1}{10}$.

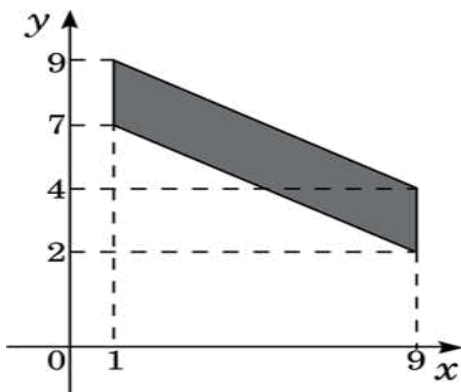
В4. В треугольнике ABC : $AC = BC$, $AB = 6$, $\cos A = \frac{3}{5}$. Найдите высоту CH .

В5. Для остекления веранды требуется заказать 70 одинаковых стекол в одной из трех фирм. Площадь каждого стекла $0,25 \text{ м}^2$. В таблице приведены цены на стекло и на резку стекол.

Фирма	Цена стекла (руб. за 1 м^2)	Резка стекла (руб. за одно стекло)	Дополнительные условия
<i>A</i>	310	10	
<i>Б</i>	300	15	
<i>В</i>	370	5	При заказе на сумму больше 6200 руб. резка бесплатно

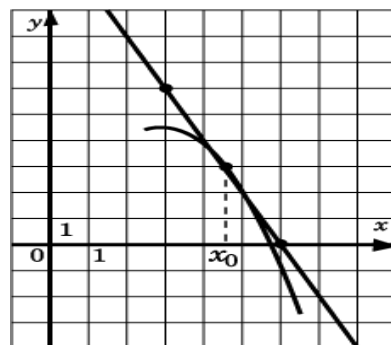
Сколько рублей будет стоить самый дешевый заказ?

В6. Найдите площадь четырехугольника, вершины которого имеют координаты $(1;7)$, $(9;2)$, $(9;4)$, $(1;9)$.

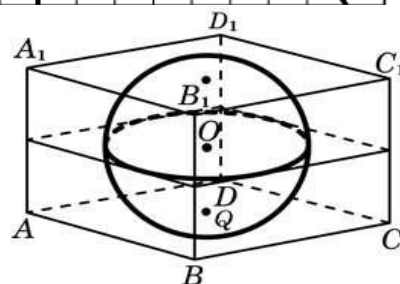


В7. Найдите значение выражения $\log_{11} 12,1 + \log_{11} 10$.

В8. На рисунке изображён график функции $y = f(x)$ и касательная к нему в точке с абсциссой x_0 . Найдите значение производной функции $f(x)$ в точке x_0 .



В9. Прямоугольный параллелепипед описан около сферы радиуса 6. Найдите объем параллелепипеда.



В10. При температуре 0°С рельс имеет длину $l_0 = 20 \text{ м}$. При возрастании температуры происходит тепловое расширение рельса, и его длина, выраженная в метрах, меняется по закону $l(t^\circ) = l_0(1 + a \cdot t^\circ)$, где $a = 1,2 \cdot 10^{-5} (\text{°С})^{-1}$ — коэффициент теплового расширения, t° — температура (в градусах Цельсия). При какой температуре рельс удлинится на 3мм? Ответ выразите в градусах Цельсия.

В11. Найдите наименьшее значение функции $y = x^2 - 3x + \ln x + 5$ на отрезке $[3/4; 5/4]$

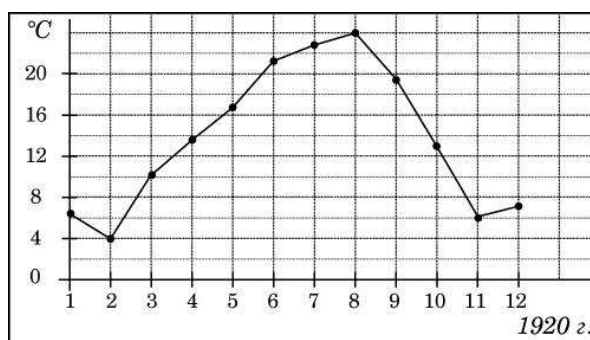
В12. Из А в В одновременно выехали два автомобилиста. Первый проехал с постоянной скоростью весь путь. Второй проехал первую половину пути со скоростью, меньшей скорости первого на 18 км/ч, а вторую половину пути — со скоростью 108 км/ч, в результате чего прибыл в В одновременно с первым автомобилистом. Найдите скорость первого автомобилиста, если известно, что она больше 63 км/ч. Ответ дайте в км/ч.

Тест 3

В1. Магазин закупает цветочные горшки по оптовой цене 110 рублей за штуку и продает с наценкой 30%.

Какое наибольшее число таких горшков можно купить в этом магазине на 1200 рублей?

В2. На рисунке жирными точками показана среднемесячная температура воздуха в Сочи за каждый месяц 1920 года. По горизонтали указываются месяцы, по вертикали — температура в градусах Цельсия. Для наглядности жирные точки соединены линией.



Определите по рисунку разность между наибольшей и наименьшей среднемесячными температурами за указанный период. Ответ дайте в градусах Цельсия.

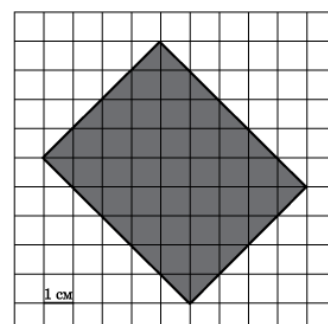
В3. Найдите корень уравнения $\sqrt{36 - 4x} = 2$

В4. В треугольнике ABC : $C = 90^\circ$, $\operatorname{tg} A = \frac{\sqrt{2}}{4}$, $BC = 4$. Найдите AB .

В5. Для строительства гаража можно использовать один из двух типов фундамента: бетонный или фундамент из пеноблоков. Для фундамента из пеноблоков необходимо 4 кубометра пеноблоков и 3 мешка цемента. Для бетонного фундамента необходимо 4 тонны щебня и 40 мешков цемента. Кубометр пеноблоков стоит 2250 рублей, щебень стоит 560 рублей за тонну, а мешок цемента стоит 180 рублей.

Сколько рублей будет стоить материал, если выбрать наиболее дешевый вариант?

В6. На клетчатой бумаге с клетками размером 1 см \times 1 см изображена фигура (см. рисунок).

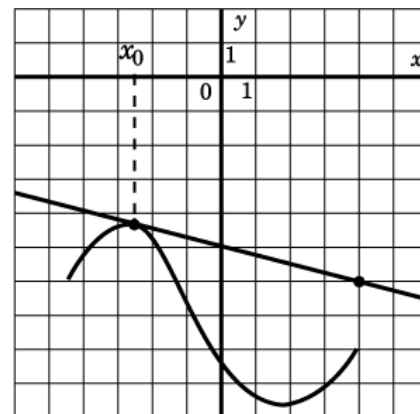


Найдите ее площадь в квадратных сантиметрах.

В7. Найдите значение выражения: $\frac{\log_7 \sqrt[4]{24}}{\log_7 24}$.

В8. На рисунке изображён график функции $y = f(x)$ и касательная к нему в точке с абсциссой x_0 .

Найдите значение производной функции $y = f(x)$ в точке x_0 .



В9. Если каждое ребро куба увеличить на 1, то его объем увеличится на 19. Найдите ребро куба.

В10. В боковой стенке высокого цилиндрического бака у самого дна закреплен кран. После его открытия вода начинает вытекать из бака, при этом высота столба воды в нем, выраженная в

$$H(t) = H_0 - \sqrt{2gH_0}kt + \frac{g}{2}k^2t^2$$

метрах, меняется по закону:

прошедшее с момента открытия крана, $H_0 = 20$ м — начальная высота столба воды, $k = 0,02$ — отношение площадей поперечных сечений крана и бака, а g — ускорение свободного падения (считайте $g = 10$ м/с²).

Через сколько секунд после открытия крана в баке останется четверть первоначального объема воды?

В11. Найдите точку минимума функции $y = (3x^2 - 48x + 48)e^{x-48}$

В12. Моторная лодка в 11:00 вышла из пункта А в пункт В, расположенный в 30 км от А. Пробыв в пункте В 2 часа 30 минут, лодка отправилась назад и вернулась в пункт А в 21:00.

Определите (в км/ч) собственную скорость лодки, если известно, что скорость течения реки 3 км/ч.

5. Рекомендуемая литература

1. Выгодский М.Я. Справочник по элементарной математике. — М.: Астрель: АСТ, 2005. — 991 с.
2. Дорофеев Г.В. Математика для поступающих в ВУЗы: пособие. — М.: Дрофа, 2001. — 672 с.
3. Дорофеев Г.В. Сборник заданий для проведения письменного экзамена по математике и алгебре и началам анализа за курс средней школы. 11 класс. — М.: Дрофа, 2002. — 160 с.
4. Математика. Справочник школьника / Сост. Г.М. Якушева. — М.: Филолог, об-во «Слово», компания «Ключ-С», АСТ, 1996. — 576 с.
5. Письменный Д.Т. Готовимся к экзамену по математике. — М.: Айрис-пресс, 2003. — 320 с.
6. Смоляков Н.В. Алгебра. Словарь-справочник 7-11 классы. — М.: «Издат-школа 2000». — 240 с.
7. Смоляков Н.В. Геометрия. Словарь-справочник 7-11 классы. — М.: «Издат-школа 2000». — 240 с.

8. Соболев Б.В., Виноградова И.Ю., Рашидова Е.В. Пособие для подготовки к единому государственному экзамену и централизованному тестированию по математике. – Ростов н/Д: Феникс, 2003. – 352 с.
9. Суходский А.М. Готовимся к экзамену по математике. 5-11 класс. – М.: ЮНВЕС, 2003. – 672 с.
10. Чулков П.В., Федулкин Л.Е. Краткий справочник по алгебре 7-11 классов. – М.: «Издательство «Издательство 2000»». – 112 с.
11. Балаян Э.Н. Репетитор по математике для поступающих в вузы. – Ростов н/Д: «Феникс», 2005. – 736 с.
12. Громов А.И., Савчин В.М. Математика для поступающих в вузы. – Изд-во «РУДН», 2001. – 473 с.
13. Иванов К.П. Ускоренный курс математики для поступающих в вуз. – СПб: САГА: Азбука-классика, 2005. – 92 с.
14. Козко А.И., Макаров Ю.Н., Чирский В.Г. Математика: Письменный экзамен: Решение задач, методы и идеи. – М.: Экзамен, 2007. – 511 с.
15. Кочетков П.А. Математика: Учебно-методическое пособие для поступающих. – М.: МГИУ, 2006, – 55 с.
16. Математика. Подготовка без репетитора. Авторы: А.А. Прокофьев, И.Б. Копсухов. Издательство «Махаон» г. Москва, 2006г.
17. Математика. ЕГЭ – 2010. Под редакцией Лысенко Ф.Ф. Тематические тесты. Издательство: «Легион». Ростов на Дону.
18. Федеральный институт педагогических измерений. ЕГЭ Математика - 2010г. Учебно – тренировочные материалы для подготовки учащихся. М: Издательство «Интеллект-Центр». Авторы: Денищева Л.О., Глазков Ю.А., Краснянская К.А., и др.

6. Показатели и критерии оценки знаний и умений поступающих, шкала оценивания

Результаты вступительных испытаний оцениваются по сто бальной шкале (100 баллов).

Критерии оценки знаний поступающих:

90-100 БАЛЛОВ: систематизированные, полные знания по всем вопросам теста; свободное владение терминологией, стилистически грамотное, логически правильное изложение ответов на вопросы; четкое представление о сущности, характере и взаимосвязях понятий и значимых явлений; умение обосновать излагаемый материал практическими примерами; -умение использовать научные источники; ориентирование в специальной литературе; знание основных проблем базовых дисциплин.

85-89 БАЛЛОВ: глубокие и полные знания по всем вопросам теста; свободное владение терминологией, стилистически грамотное, логически правильное изложение ответов на вопросы; четкое представление о сущности, характере и взаимосвязях понятий и значимых явлений; умение обосновать излагаемый материал практическими примерами; умение использовать научные источники; ориентирование в специальной литературе;

24-84 БАЛЛОВ: достаточно полный ответ на вопросы теста; владение терминологией; представление о сущности и взаимосвязях значимых явлений и процессов; умение обосновать излагаемый материал практическими примерами;

Менее 24 БАЛЛОВ: - фрагментарные знания и компетенции; неполное представление о сущности значимых явлений;

0 БАЛЛОВ - отсутствие знаний и компетенций; отсутствие представления о сущности, характере и взаимосвязях значимых явлений; неумение владеть терминологией.

7. Правила проведения вступительного испытания

6.1. Правила проведения вступительного испытания разработаны в соответствии с Правилами приема в Институт на текущий учебный год, Положением об экзаменационной комиссии, Положением об апелляционной комиссии, утверждённым в Институте.

6.2. Вступительное испытание проводится на русском языке.

6.3. На вступительных испытаниях поступающим обеспечивается спокойная и доброжелательная обстановка, гарантируется возможность наиболее полно проявить уровень своих знаний и умений.

6.4. Во время проведения вступительных испытаний их участникам и лицам, привлекаемым к их проведению, запрещается иметь при себе и использовать средства связи. Участники вступительных испытаний могут иметь при себе и использовать справочные материалы и электронно-вычислительную технику, разрешенные правилами приема, утвержденными организацией самостоятельно, к использованию во время проведения вступительных испытаний.

6.5. Накануне вступительных испытаний для поступающих проводятся консультации, как по содержанию программ вступительных испытаний, так и по предъявляемым требованиям, критериям оценки, порядку конкурсного зачисления и т.п.

6.6. В день проведения вступительного испытания за 30 минут до его начала председатель Приемной комиссии выдает председателям Экзаменационных комиссий необходимое количество комплектов материалов вступительных испытаний.

6.7. Допуск в аудитории, в которых идут вступительные испытания, разрешен председателю Приемной комиссии, ответственному секретарю Приемной комиссии и членам соответствующей Экзаменационной комиссии.

6.8. Присутствие на вступительных испытаниях посторонних лиц (включая представителей контролирующих и надзорных органов) без разрешения председателя Приемной комиссии не допускается.

6.9. Поступающие должны явиться на вступительное испытание в срок, указанный в расписании вступительных испытаний.

Поступающие допускаются на вступительное испытание по предъявлении документа, удостоверяющего личность.

6.10. Поступающим выдаются необходимые материалы вступительных испытаний (бланк тестового задания, бланк черновика и т.п.), заверенные печатью Приемной комиссии.

6.11. При подготовке ответа на вступительном испытании, проводимом в письменной форме, поступающий ведет записи на выданных ему бланках материалов вступительных испытаний, заверенных печатью Приемной комиссии.

6.12. Письменные экзаменационные работы (в том числе черновики) выполняются на листах, на которых недопустимы никакие условные пометки, раскрывающие авторство работы.

6.13. По истечении времени проведения вступительного испытания, проводимого в письменной форме, председатель Экзаменационной комиссии собирает материалы вступительных испытаний и передает их ответственному секретарю Приемной комиссии для проведения процедуры шифрования.

6.14. При нарушении поступающим порядка проведения вступительных испытаний уполномоченные должностные лица организации вправе удалить его с места проведения вступительного испытания с составлением акта об удалении.

6.15. После объявления результатов письменного вступительного испытания поступающий (доверенное лицо) имеет право ознакомиться со своей работой (с работой поступающего) в день объявления результатов письменного вступительного испытания или в течение следующего рабочего дня.

6.16. По результатам вступительного испытания, проводимого Институтом, поступающий (доверенное лицо) имеет право подать в апелляционную комиссию апелляцию о нарушении, по мнению поступающего, установленного порядка проведения вступительного испытания и (или) о несогласии с полученной оценкой результатов вступительного испытания.

6.17. Апелляция подается в день объявления результатов вступительного испытания или в течение следующего рабочего дня.

Рассмотрение апелляции проводится не позднее следующего рабочего дня после дня ее подачи.

6.18. Поступающий (доверенное лицо) имеет право присутствовать при рассмотрении апелляции. С несовершеннолетним поступающим (до 18 лет) имеет право присутствовать один из родителей или законных представителей, кроме несовершеннолетних, признанных в соответствии с законом полностью дееспособными до достижения совершеннолетия.

6.19. После рассмотрения апелляции апелляционная комиссия принимает решение об изменении оценки результатов вступительного испытания или оставлении указанной оценки без изменения.

8. Особенности проведения вступительных испытаний для граждан с ограниченными возможностями здоровья

7.1. Вступительные испытания для поступающих с ограниченными возможностями здоровья проводятся в отдельной аудитории.

7.2. Число поступающих с ограниченными возможностями здоровья в одной аудитории не должно превышать 12 человек

7.3. Допускается присутствие в аудитории во время сдачи вступительного испытания большего числа поступающих с ограниченными возможностями здоровья, а также проведение вступительных испытаний для поступающих с ограниченными возможностями здоровья в одной аудитории совместно с иными поступающими, если это не создает трудностей для поступающих при сдаче вступительного испытания.

Допускается присутствие в аудитории во время сдачи вступительного испытания ассистента из числа работников организации или привлеченных лиц, оказывающего поступающим с ограниченными возможностями здоровья необходимую техническую помощь с учетом их индивидуальных особенностей (занять рабочее место, передвигаться, прочесть и оформить задание, общаться с преподавателями, проводящими вступительное испытание).

7.4. Продолжительность вступительного испытания для поступающих с ограниченными возможностями здоровья увеличивается на 1,5 часа и составляет 3,5 часа

7.5. Поступающим с ограниченными возможностями здоровья предоставляется в доступной для них форме инструкция по порядку проведения вступительных испытаний.

7.6. Поступающие с ограниченными возможностями здоровья могут в процессе сдачи вступительного испытания пользоваться техническими средствами, необходимыми им в связи с их индивидуальными особенностями.

7.7. При проведении вступительных испытаний обеспечивается выполнение следующих дополнительных требований в зависимости от индивидуальных особенностей, поступающих с ограниченными возможностями здоровья:

а) для слепых:

письменные задания надиктовываются ассистенту;

б) для слабовидящих:

обеспечивается индивидуальное равномерное освещение не менее 300 люкс;

поступающим для выполнения задания при необходимости предоставляется увеличивающее устройство; возможно также использование собственных увеличивающих устройств;

задания для выполнения, а также инструкция по порядку проведения вступительных испытаний оформляются увеличенным шрифтом;

в) для глухих и слабослышащих обеспечивается наличие звукоусиливающей аппаратуры коллективного пользования, при необходимости поступающим предоставляется звукоусиливающая аппаратура индивидуального пользования;

г) для слепоглухих предоставляются услуги тифлосурдопереводчика (помимо требований, выполняемых соответственно для слепых и глухих);

д) для лиц с тяжелыми нарушениями речи, глухих, слабослышащих вступительные испытания, проводятся в письменной форме (дополнительные вступительные испытания творческой и (или) профессиональной направленности - по решению Института);

е) для лиц с нарушениями двигательных функций верхних конечностей или отсутствием верхних конечностей:

письменные задания выполняются на компьютере со специализированным программным обеспечением или надиктовываются ассистенту;

вступительные испытания, проводимые в письменной форме, проводятся в устной форме (дополнительные вступительные испытания творческой и (или) профессиональной направленности - по решению Института).

7.7. Условия, указанные в разделе 7 настоящей программы, предоставляются поступающим на основании заявления о приеме, содержащего сведения о необходимости создания соответствующих специальных условий.

9. Перечень принадлежностей, необходимых поступающему в аудитории для сдачи вступительного испытания

Поступающий должен иметь с собой на экзамене ручку с синей пастой (не гелевую), карандаш.